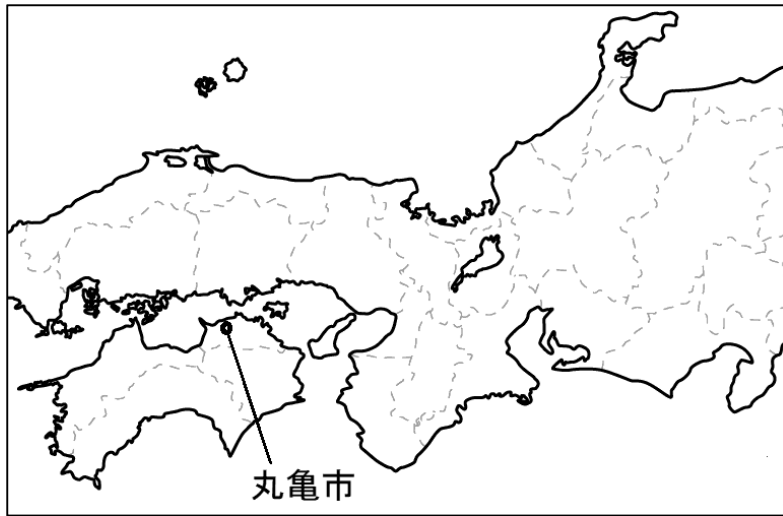


<平成 30 年度 埼玉県 社会> 大問 2

Nさんは、地理的分野の授業で日本の諸地域を学習したあと、**地図 1**を作成しました。**地図 1**をみて、問 1～問 4に答えなさい。

地図 1



(実際の入試問題の地図から、設問を解く上で必要な情報のみ記載しています)

問 4 次のページの**地図 2**は、**地図 1**中の丸亀市の一部を示した 2 万 5 千分の 1 の地形図です。**地図 2**をみて、次の問いに答えなさい。

日本の気候区分において、瀬戸内の気候に属する丸亀市では、**資料**にみられる、ため池を利用した農業が行われてきました。ため池が利用されてきた理由を、瀬戸内の気候の特色にふれながら、**地図 2**から読みとれる農業に関するおもな土地利用に着目して説明しなさい。

資料

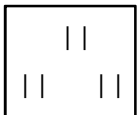
実際の入試では
ため池と周辺の写真
が掲載されていました。

地図 2

実際の入試では

国土地理院 2 万 5 千分の 1 地形図
「丸亀」(平成 24 年発行) 一部改変

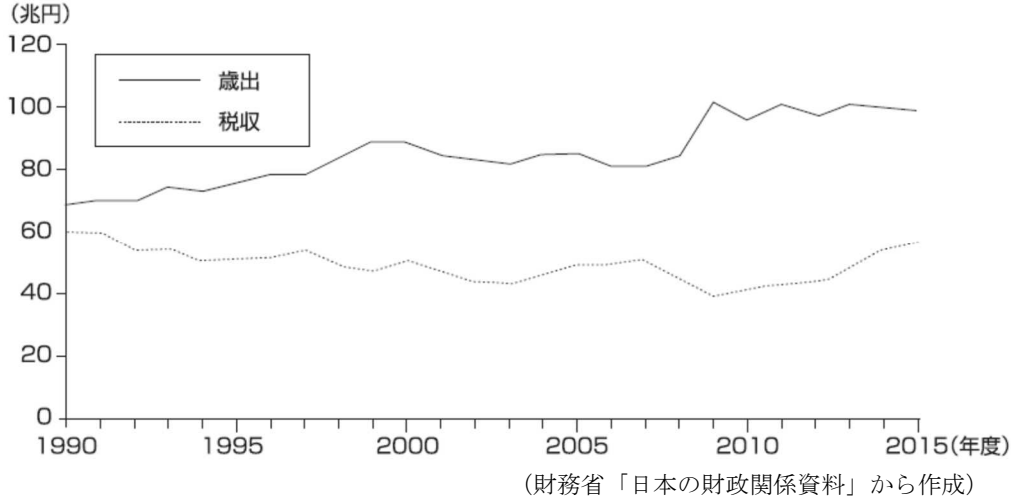
が掲載されていました。
ため池の周辺には、次の地図記号が
多く見られます。



<平成 30 年度 埼玉県 社会> 大問 5

問 5 Kさんは、下線部⑤について調べ、国の一般会計における歳出と税収を示した**グラフ**をつくりました。**グラフ**をみて、政府が国債を発行する目的を、「歳出」と「税収」という二つの語を用いて書きなさい。

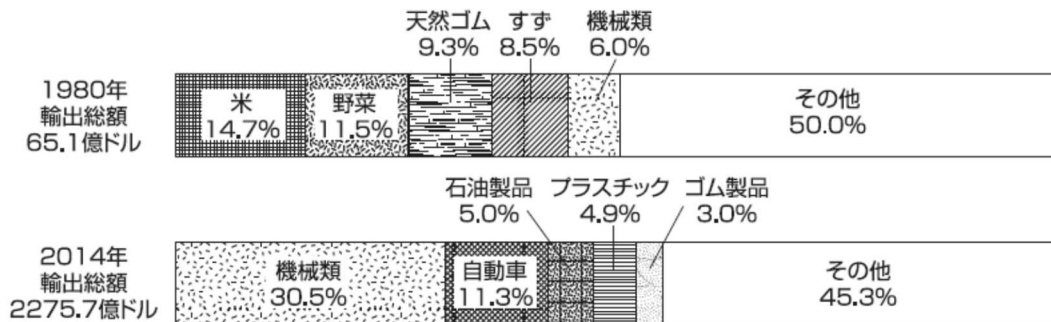
グラフ



<平成 30 年度 埼玉県 社会> 大問 6

問 2 下線部②に関連して、Hさんは、最大の日本町があったとされる、タイの貿易について調べ、次の**グラフ**をつくりました。**グラフ**は、1980年と2014年のタイの輸出総額と輸出品の総額に占める割合（上位5品目）を示したものです。**グラフ**を読みとり、タイの輸出がどのように変化したかを、輸出総額と輸出品の特色に着目して書きなさい。

グラフ



(世界国勢図会 2016/17年版などから作成)